

Lời: Biswa Choudhury – Tranh: Mohan Sharma
Người dịch: Lê Ngọc

Thử thách IQ,
nâng cao trí tuệ




TOÁN



HỌC


NHÀ XUẤT BẢN GIÁO DỤC VIỆT NAM

Bé yêu, bé hãy tìm và đánh dấu (✓) vào nhóm con vật có số lượng bằng nhau nào!




Bé hãy trở tài đếm và điền số lượng từng con vật vào ô tương ứng.

Bé ơi, hãy tìm và khoanh tròn 5 số ẩn giấu trên người bạn Voi nhé!



Con chim

Con bướm



Bé điền các số còn thiếu để tạo ra nhiều dãy số liên tục nhé!

9		11		
	19		21	
12		14		
29			32	
	42			45

Bé quan sát dãy số sau và trả lời câu hỏi.



Số nào:

1. Đứng sau số 6? _____

2. Đứng trước số 5? _____

Nào, bé thử quan sát xem có bao nhiêu chiếc bút màu trong mỗi túi?










Có bao nhiêu ô tô và bao nhiêu quả bóng?



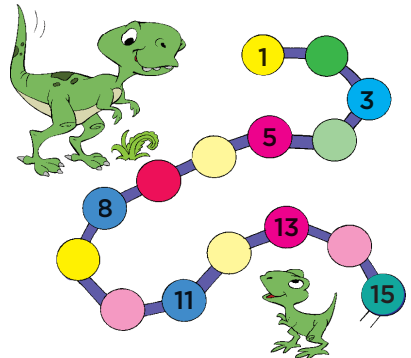
Ô tô

Quả bóng

Ú oà, ai đây? Bé viết số thứ tự đúng cho các miếng ghép để tìm ra anh bạn bí ẩn nào!




Bé điền đúng các số còn thiếu để giúp mẹ con khủng long đoàn tụ nhé!




Bé quan sát kĩ các con vật ở Nhóm A và Nhóm B rồi trả lời câu hỏi nhé!

NHÓM A






Có bao nhiêu con khỉ ở NHÓM A? _____

NHÓM B

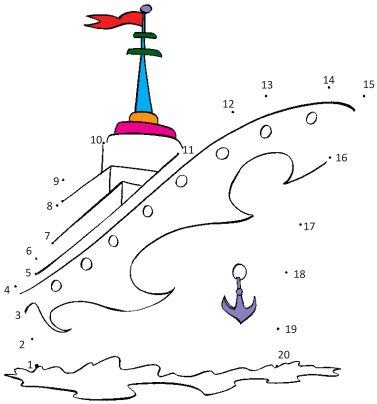


Có bao nhiêu con gấu túi ở NHÓM B? _____

Bé có nhận ra các số còn thiếu ở mỗi chùm bóng không? Viết số mà bé tìm ra nhé!



Vật nào trông quen thế nhỉ?
Bé nối các chấm tròn là biết ngay thôi!




Bé đi tàu hoả bao giờ chưa?
Hãy điền các số đứng sau số 3 và số 6 nhé!



Bé hãy đếm và điền số lượng
con vật vào ô tương ứng.


Chà chà, kẹo ngon quá! Có tất cả
bao nhiêu kẹo vậy bé yêu?



			<input type="text"/>	Con cua
			<input type="text"/>	Con cá
		<input type="text"/>	<input type="text"/>	Con ốc sên
			<input type="text"/>	

Bé hãy gạch chéo (x) hình phù hợp theo chỉ dẫn bên dưới.

Chú gà con thứ tư, tính từ trái sang



Chiếc mũ thứ sáu, tính từ trái sang




Số nào đứng trước các số sau vậy bé?

5


10

15


Bạn nhỏ nào mãi vẽ mà quên viết số lên mấy quả cam vậy nhỉ? Bé giúp bạn ấy nhé!



Bé hãy tô màu hình tròn có số lượng bông hoa được chia đều ở cả hai phần.



Có tất cả bao nhiêu con cừu vậy bé yêu?



Có _____ con cừu.

+

=